

Exercice n°1 : Compléter les tableaux suivants.


a)

Phrase en français	Placer deux points C et D, puis tracer la droite qui passe par les points C et D.
Dessin	
Phrase codée	Tracer ...


a)

Phrase en français	Placer deux points K et L, puis tracer le segment d'extrémités K et L.
Dessin	
Phrase codée	

b)

Phrase en français	
Dessin	
Phrase codée	

b)

Phrase en français	
Dessin	
Phrase codée	

c)

Phrase en français	
Dessin	
Phrase codée	Tracer (GH).

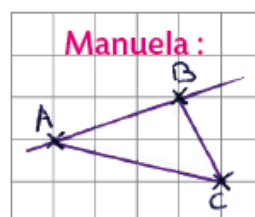
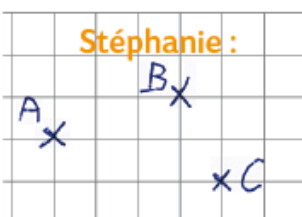
c)

Phrase en français	
Dessin	
Phrase codée	Tracer [PQ].

Exercice n°2 :

Stéphanie n'a pas fini de reproduire le dessin donné en classe : elle a seulement placé trois points.

Elle téléphone à Manuela.



Quelles consignes Manuela doit-elle dicter à Stéphanie pour qu'elle puisse compléter son dessin ?